

SMK DATUK BENDAHARA

Sejarah Tingkatan 5

Bab 1

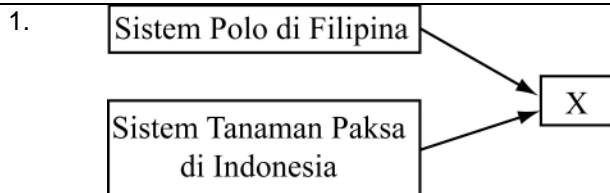
Objektif

Kertas 1

Class :

Marks :

Arahan: Tiap-tiap soalan diikuti oleh empat pilihan jawapan. Pilih satu jawapan terbaik bagi tiap-tiap soalan dan **hitamkan** rungan yang sepadan pada kertas jawapan objektif anda.



Kedua-dua sistem dilaksanakan oleh penjajah untuk mencapai matlamat X.

X ialah

- A memperkenalkan kaedah tanaman baru
- B mengeksploitasi kekayaan hasil peribumi
- C meningkatkan pendapatan rakyat tempatan
- D menyekat monopoli kegiatan perdagangan

2.

Negara	Pentadbiran
Filipina	Sistem Ecomienda
Indocina	Indochinoise

Pentadbiran dalam jadual di atas diperkenalkan oleh kuasa imperialis Barat.

Mengapakah kedua-dua jenis pentadbiran dibenci oleh rakyat peribumi?

- I Kebebasan politik terhad
- II Berlaku kerahan tenaga
- III Pembayaran cukai yang tinggi
- IV Kemosrotan pengaruh golongan agama

- A I dan II
- B II dan III
- C III dan IV
- D I dan IV

- 3.
- Soekarno
 - Jose Rizal

Mengapakah kedua-dua tokoh di atas dipenjarakan oleh penjajah?

- A Menuntut persamaan hak
- B Memimpin revolusi rakyat
- C Melancarkan mogok lapar
- D Menggugat kekuasaan pemerintah

4.

Negara	Pertubuhan
Burma	Parti Dobama Asiyone
Indonesia	Parti Nasional Indonesia

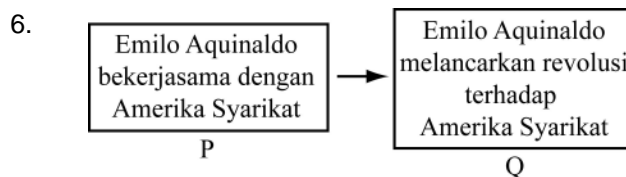
Apakah persamaan perjuangan kedua-dua pertubuhan di atas?

- A Mendesak pilihan raya
- B Menuntut pembebasan negara
- C Melancarkan revolusi bersenjata
- D Memulihkan sistem pemerintahan beraja

5. Antara berikut, yang manakah kesan-kesan pengenalan birokrasi Barat terhadap sistem pemerintahan di Asia Tenggara?

- I Penyatuan wilayah-wilayah
- II Penyingkiran kuasa pembesar
- III Peminggiran undang-undang tradisional
- IV Pengeksploitasian ekonomi untuk kepentingan peribumi

- A I, II dan III
- B I, II dan IV
- C I, III dan IV
- D II, III dan IV



Rajah di atas menggambarkan perubahan sikap Emilo Aguinaldo terhadap Amerika Syarikat daripada P kepada Q.

Mengapakah berlakunya perubahan sikap sedemikian?

- A Kekejaman terhadap nasionalis Filipina
- B Kegagalan meningkatkan taraf hidup Filipina
- C Keengganan memberi kemerdekaan kepada Filipina
- D Kemosrotan golongan intelek dalam pentadbiran Filipina

7.

Perjuangan Jose Rizal
<ul style="list-style-type: none">• Filipina dijadikan wilayah Sepanyol• Bangsa Filipina diberikan kebebasan bersuara

Berdasarkan maklumat di atas, perjuangan Jose Rizal dilakukan melalui

- A Liga Filipina
- B gerakan dakyah
- C kerajaan revolusi
- D penubuhan Kutipunan

8. Antara berikut, isu-isu yang manakah diperjuangkan dalam gerakan nasionalisme terhadap pertama di Asia Tenggara?

- I Hak peribumi
- II Taraf hidup rakyat
- III Berkerajaan sendiri
- IV Soal kebudayaan

- A I, II dan III
- B I, II dan IV
- C I, III dan IV
- D II, III dan IV

9. Andaikan anda ialah seorang pengusaha kilang Eropah yang ingin menggunakan Terusan Suez untuk mendapatkan bahan mentah dari Timur untuk kilang anda.

Mengapakah terusan tersebut menjadi pilihan anda?

- I Perjalanan lebih selamat
- II Persaingan dapat dielakkan
- III Memendekkan jarak perjalanan
- IV Menjimatkan kos pengangkutan

- A I, II dan III
- B I, II dan IV

- C I, III dan IV
- D II, III dan IV

10. Sebelum Revolusi Perindustrian di Eropah, imperialisme Barat dilakukan secara tidak langsung.

Apakah tujuan imperialisme Barat pada masa itu?

- A Menbanteras kegiatan lanun
- B Mententeramkan politik setempat
- C Memonopoli perdagangan rempah
- D Mentamadunkan penduduk peribumi

11.

- | |
|---|
| <ul style="list-style-type: none">• India• China |
|---|

Mengapakah kedua-dua negara dalam senarai di atas menjadi sasaran awal imperialisme Barat?

- A Keluasan negara
- B Pasaran yang luas
- C Tenaga mahir yang ramai
- D Persamaan bentuk pemerintahan

12. Mengapakah penubuhan volksraad hasil desakan Sarekat Islam dianggap sebagai peristiwa penting dalam sejarah perkembangan Indonesia?

- A Persediaan ke arah pembebasan negara
- B Pemilihan pemimpin melalui pilihan raya
- C Penglibatan rakyat dalam pentadbiran negara
- D Pengenalan sistem pemerintahan kerajaan berpusat

13. Kedudukan strategik Asia Tenggara, iaitu terletak di antara China dan India menarik minat imperialis Barat?

Apakah kelebihan kedudukan strategik tersebut?

- A Menjamin pasaran yang luas
- B Menjimatkan kos pengangkutan bahan mentah
- C Kestabilan politik menggalakkan kegiatan perdagangan
- D Kesediaan pemimpin setempat menerima pengaruh luar

Cerpen	Karya
Ke Makam Bonda	Kharil Anuar
Putera Gunung Tahan	Pak Sako

Apakah mesej yang ingin disampaikan dalam kedua-dua karya di atas?

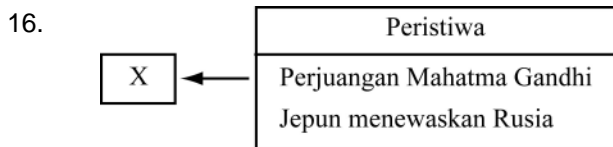
- A Kemerosotan budaya peribumi
- B Kesengsaraan rakyat tempatan
- C Kebebasan dalam kegiatan politik
- D Kemerosotan pengaruh bangsawan

15.

<ul style="list-style-type: none">• Beban orang putih• Tugas menyebarkan tamadun

Kedua-dua slogan di atas digunakan oleh kuasa Barat untuk

- A memperkemas pentadbiran pribumi
- B mempamerkan ketertinggalan peradaban
- C membawa kesejahteraan dalam hidup
- D mewajarkan tindakan golongan imperialisme



Peristiwa dalam rajah di atas mempengaruhi X di Asia Tenggara pada abad ke-20

X ialah

- A penubuhan parti politik
- B perluasan kuasa tentera
- C kebangkitan semangat kebangsaan
- D kewujudan pemerintahan demokrasi

17. Sebelum kedatangan Perancis, golongan Mandarin mengetuai setiap birokrasi di Vietnam. Golongan tersebut dilantik melalui

- A cadangan daripada bangsawan
- B mencurah bakti kepada negara
- C pencapaian dalam peperiksaan
- D permuafakatan penduduk setempat

18.

<ul style="list-style-type: none">• Akta Kampung Ulu Burma 1887• Akta Perkampungan Burma 1889
--

Akta-akta tersebut dilaksanakan oleh British di Burma.

Apakah implikasi pelaksanaan akta tersebut?

- A Menyekat kebebasan berpolitik rakyat
- B Mencetuskan penentangan terhadap pemerintah
- C Menamatkan sistem pemerintahan tradisional
- D Menyediakan Burma ke arah berkerajaan sendiri

19.

Kebijaksanaan pemerintahan Raja Mongkut dan Raja Chulalongkorn menyelamatkan Thailand daripada dijajah oleh kuasa Barat

Berdasarkan maklumat di atas, kebijaksanaan bermaksud

- A mengamalkan dasar pemencilan diri
- B melakukan pemodenan dalam pentadbiran
- C memperkukuhkan kekuatan angkatan tentera
- D menyekat penguasaan ekonomi oleh pemodal asing

20.

Negara	Sistem pendidikan
Indonesia	Pendidikan untuk golongan priyayi dan rakyat biasa diasingkan
Burma	Pendidikan sekular dan pendidikan mubaligh

Sistem pentadbiran dalam jadual di atas diperkenalkan oleh penjajah Barat.

Apakah kesimpulan yang dapat dibuat tentang sistem pendidikan tersebut?

- A Memecahkan perpaduan rakyat
- B Memupuk kesetiaan terhadap pemerintah
- C Meningkatkan taraf hidup para penduduk
- D Melahirkan pengawai untuk jawatan kanan